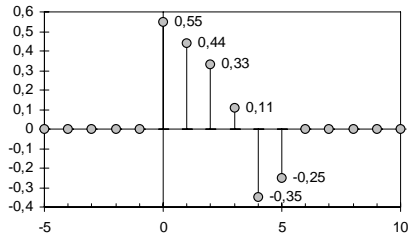


EXERCICES SUR LA TRANSFORMEE EN Z

Exercice 1



Donner la transformée en z de la fonction numérique discrète $x(n)$ représentée par le graphique ci-contre (elle est aussi nulle dans les parties non représentées).

$$X(z) = 0,55 + 0,44 z^{-1} + 0,33 z^{-2} + 0,11 z^{-3} - 0,35 z^{-4} - 0,25 z^{-5}$$

Exercice 2

Calculer la transformée en z de la fonction causale suivante et calculer ses zéros et/ou ses pôles.

n	0	1	2	3	4	5...∞
$x(n)$	1	4	6	4	1	0...0

$$X(z) = 1 + 4z^{-1} + 6z^{-2} + 4z^{-3} + z^{-4} = z^{-4}(z^4 + 4z^3 + 6z^2 + 4z + 1)$$

$$X(z) = z^{-4}(z+1)(z^3+3z^2+3z+1) = z^{-4}(z+1)(z+1)(z^2+2z+1) = z^{-4}(z+1)^4 = (1+z^{-1})^4$$

Zéros $z=-1$ quadruple, bien entendu pas de pôle.

Même question pour la fonction causale suivante.

n	0	1	2	3	4	5	6	7	8...∞
$y(n)$	0	0	0	1	4	6	4	1	0...0

$$Y(z) = z^{-3}(1+z^{-1})^4$$

Exercice 3

Calculer la transformée en z des fonctions discrètes suivantes. Vérifier que les théorèmes de la valeur initiale et finale s'appliquent.

$$x(n) = 0,8^n u(n) \quad \text{et} \quad y(n) = n0,8^n u(n)$$

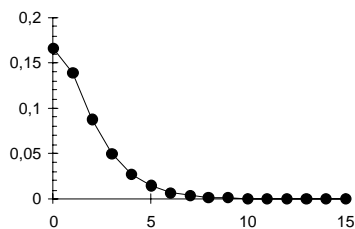
$$X(z) = \frac{z}{z-0,8} \quad \text{et} \quad Y(z) = -z \frac{d\left(\frac{z}{z-0,8}\right)}{dz} = -z \frac{-0,8}{(z-0,8)^2} = \frac{0,8z}{(z-0,8)^2}$$

$$x(0) = \lim_{z \rightarrow \infty} \left| \frac{z}{z-0.8} \right| = 1 \quad x(0) = \lim_{z \rightarrow \infty} \left| \frac{0.8z}{(z-0.8)^2} \right| = 0$$

$$x(\infty) = \lim_{z \rightarrow 1} \left| \frac{z(z-1)}{z-0.8} \right| = 0 \quad x(\infty) = \lim_{z \rightarrow 1} \left| \frac{0.8z(z-1)}{(z-0.8)^2} \right| = 0$$

Exercice 4

Trouver la séquence $y(n)$ qui a comme transformée en z : $Y(z) = \frac{1}{6-5z^{-1}+z^{-2}}$.



$$Y(z) = \frac{1}{6-5z^{-1}+z^{-2}} = \frac{z^2}{6z^2-5z+1} = \frac{z}{2z-1} - \frac{z}{3z-1} = \frac{1}{2} \frac{z}{z-\frac{1}{2}} - \frac{1}{3} \frac{z}{z-\frac{1}{3}}$$

$$y(n) = \frac{1}{2} \left(\frac{1}{2}\right)^n u(n) - \frac{1}{3} \left(\frac{1}{3}\right)^n u(n) = \left[\left(\frac{1}{2}\right)^{n+1} - \left(\frac{1}{3}\right)^{n+1} \right] u(n)$$

0	1	2	3	4	5	6	7	8	9	10
0,1667	0,1389	0,0880	0,0502	0,0271	0,0143	0,0074	0,0038	0,0019	0,0010	0,0005

Exercice 5

$$X(z) = \frac{\frac{\sqrt{2}}{2} z^2}{z^2 - 0.8\sqrt{2}z + 0.64}$$

De quelle fonction $x(n)$ la fonction est la transformée en z ?

$$x(n) = 0,8^n \cos\left[\frac{\pi}{4}(n-1)\right] u(n)$$

Exercice 6

Quelles sont les transformées en z de :

1) $x_1(n) = \left(\frac{1}{3}\right)^n u(n)$

2) $x_2(n) = \left(\frac{1}{2}\right)^{n-2} \left(\frac{1}{3}\right)^n u(n)$

3) $x_3(n) = n \left(\frac{1}{3}\right)^n u(n)$.

$$1) \frac{z}{z - \frac{1}{3}} = \frac{3z}{3z - 1}$$

$$2) x_2(n) = 4\left(\frac{1}{6}\right)^n u(n) \text{ a pour transformée } \frac{4z}{z - \frac{1}{6}}$$

$$3) \frac{1}{3} \frac{z}{\left(z - \frac{1}{3}\right)^2} = \frac{3z}{(3z - 1)^2}$$

Exercice 7

1) Donner la transformée en z de la fonction discrète $x(n) = \left[1 - \sin\left(\frac{n\pi}{6} - \frac{\pi}{3}\right)\right] u(n)$.

En déduire les transformées en z de :

$$2) x_1(n) = \left[1 + \cos\left(\frac{n\pi}{6}\right)\right] u(n-1)$$

$$3) y(n) = e^{-2n} \left[1 - \sin\left(\frac{n\pi}{6} - \frac{\pi}{3}\right)\right] u(n)$$

$$4) g(n) = n \left[1 - \sin\left(\frac{n\pi}{6} - \frac{\pi}{3}\right)\right] u(n)$$

$$1) x(n) = \left[1 - \sin\left(\frac{n\pi}{6} - \frac{\pi}{3}\right)\right] u(n) \quad X(z) = \frac{z}{z-1} - \frac{-z^2 \sin \frac{\pi}{3} + z \sin\left(\frac{\pi}{6} + \frac{\pi}{3}\right)}{z^2 - 2\cos \frac{\pi}{6} z + 1} = \frac{z}{z-1} - \frac{z - \frac{\sqrt{3}}{2} z^2}{z^2 - \sqrt{3} z + 1}$$

$$2) x_1(n) = \left[1 + \cos\left(\frac{n\pi}{6}\right)\right] u(n-1) = x(n-1) \quad X_1(z) = z^{-1} X(z) = \frac{1}{z-1} - \frac{1 - \frac{\sqrt{3}}{2} z}{z^2 - \sqrt{3} z + 1}$$

$$3) y(n) = e^{-2n} \left[1 - \sin\left(\frac{n\pi}{6} - \frac{\pi}{3}\right)\right] u(n) = (e^{-2})^n x(n) \quad Y(z) = \frac{z}{z - e^{-2}} - \frac{e^{-2} z - \frac{\sqrt{3}}{2} z^2}{z^2 - \sqrt{3} e^{-2} z + e^{-4}}$$

$$4) g(n) = n \left[1 - \sin\left(\frac{n\pi}{6} - \frac{\pi}{3}\right)\right] u(n) = n x(n) \quad G(z) = -z \frac{dX(z)}{dz} = \frac{z}{(z-1)^2} + z \frac{\frac{z^2 - \sqrt{3} z + 1}{z^2 - \sqrt{3} z + 1}}{(z^2 - \sqrt{3} z + 1)^2}$$

Formules développées :

$$X(z) = \frac{1 + \frac{\sqrt{3}}{2} - \left(1 + 3\frac{\sqrt{3}}{2}\right) z^{-1} + 2z^{-2}}{1 - (1 + \sqrt{3})z^{-1} + (1 + \sqrt{3})z^{-2} + z^{-3}}$$

$$X_1(z) = \frac{\left(1 + \frac{\sqrt{3}}{2}\right)z^{-1} - \left(1 + 3\frac{\sqrt{3}}{2}\right)z^{-2} + 2z^{-3}}{1 - (1 + \sqrt{3})z^{-1} + (1 + \sqrt{3})z^{-2} + z^{-3}}$$

$$Y(z) = \frac{1 + \frac{\sqrt{3}}{2} - \left(1 + 3\frac{\sqrt{3}}{2}\right)e^{-2}z^{-1} + 2e^{-4}z^{-2}}{1 - (1 + \sqrt{3})e^{-2}z^{-1} + (1 + \sqrt{3})e^{-4}z^{-2} + e^{-6}z^{-3}}$$

$$G(z) = \frac{\frac{3}{2}z^{-1} - (1 + 3\sqrt{3})z^{-2} + \left(\frac{13}{2} + 2\sqrt{3}\right)z^{-3} - (2 + 3\sqrt{3})z^{-4} + 2z^{-5}}{1 - 2(1 + \sqrt{3})z^{-1} + 2(3 + 2\sqrt{3})z^{-2} - 2(5 + 2\sqrt{3})z^{-3} + 2(3 + 2\sqrt{3})z^{-4} - 2(1 + \sqrt{3})z^{-5} + z^{-6}}$$

Exercice 8

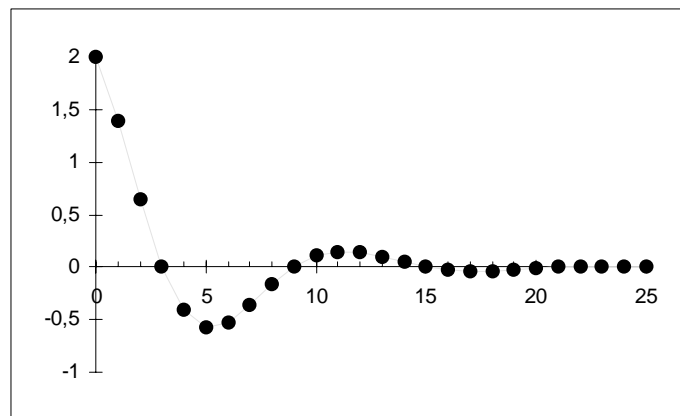
On considère la transformée $X(z) = \frac{z}{z - z_0} + \frac{z}{z - z_0^*}$. Trouver $x(n)$. On posera $z_0 = e^{(r+j\theta)}$ et donc $z_0^* = e^{(r-j\theta)}$

On sait que $e^{an}u(n) \iff \frac{z}{z - e^a}$

$$x(n) = e^{rn} \left(e^{jn\theta} + e^{-jn\theta} \right) u(n) = 2e^{rn} \cos n\theta u(n)$$

On remarquera que $X(z) = \frac{z}{z - z_0} + \frac{z}{z - z_0^*} = \frac{z(z - e^r \cos \theta)}{z^2 - 2e^r \cos \theta z + e^{2r}}$ est de la forme

$$X(z) = \frac{z(z - c)}{z^2 - 2c z + b}$$



pour $e^r = 0,8$ et $\theta = 30^\circ$

Exercice 9

$$H(z) = \frac{z^{-2} - 2z^{-1} + 1}{a^2 z^{-2} - 2az^{-1} + 1}$$

Trouver $h(n)$ correspondant à la transformée en z suivante :

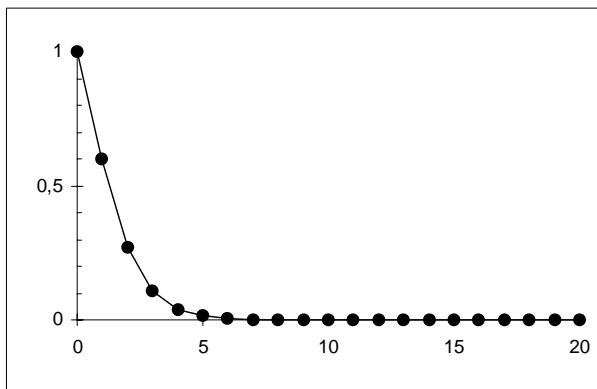
$$H(z) = \frac{z^{-2} - 2z^{-1} + 1}{a^2 z^{-2} - 2az^{-1} + 1} = \frac{(z^{-1} - 1)^2}{(az^{-1} - 1)^2} = \frac{(z-1)^2}{(z-a)^2}$$

On sait que $n a^n x(n) \iff \frac{az}{(z-a)^2}$

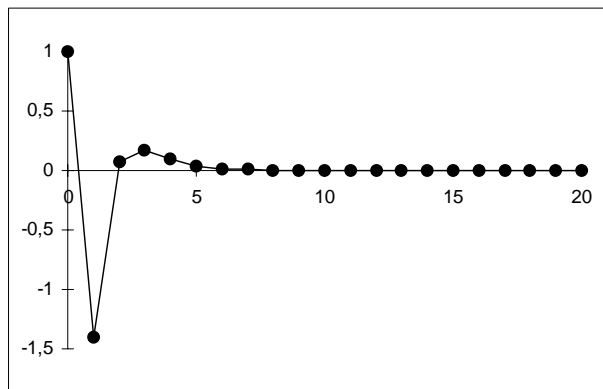
$$H(z) = \frac{z^2 - 2z + 1}{(z-a)^2} = \frac{1}{a} \left(z \frac{az}{(z-a)^2} - 2 \frac{az}{(z-a)^2} + z^{-1} \frac{az}{(z-a)^2} \right)$$

$$h(n) = \frac{1}{a} \left((n+1)a^{(n+1)}u(n+1) - 2na^n u(n) + (n-1)a^{(n-1)}u(n-1) \right)$$

$$h(n) = (n+1)a^n u(n+1) - 2na^{(n-1)}u(n) + (n-1)a^{(n-2)}u(n-1)$$



$(n+1)a^n u(n+1)$



$h(n)$

pour $a=0,3$

Exercice 10

$$H(z) = \frac{z-z_0}{(z-p_0)(z-p_0^*)}$$

Quelle est la fonction discrète $h(n)$ dont la transformée est un réel. On utilisera la méthode basée sur la reconnaissance de fonctions connues et la méthode des résidus. On posera $p_0 = \rho e^{j\theta}$. Quelle équation de récurrence correspond à $H(z)$?

Méthode classique

$$H(z) = \frac{z-z_0}{z^2 - 2\rho \cos \theta z + \rho^2} = \frac{z - \rho \cos \theta}{z^2 - 2\rho \cos \theta z + \rho^2} + \frac{\rho \cos \theta - z_0}{z^2 - 2\rho \cos \theta z + \rho^2}$$

$$H(z) = z^{-1} \frac{z^2 - z\rho \cos \theta}{z^2 - 2\rho \cos \theta z + \rho^2} + z^{-1} \frac{z(\rho \cos \theta - z_0)}{z^2 - 2\rho \cos \theta z + \rho^2}$$

$$H(z) = z^{-1} \frac{z^2 - z\rho \cos \theta}{z^2 - 2\rho \cos \theta z + \rho^2} + kz^{-1} \frac{z\rho \sin \theta}{z^2 - 2\rho \cos \theta z + \rho^2} \text{ en posant } k\rho \sin \theta = \rho \cos \theta - z_0.$$

$$k = \frac{\cos \theta}{\sin \theta} - \frac{z_0}{\rho \sin \theta}$$

$$h(n) = \rho^{n-1} \cos[(n-1)\theta]u(n-1) + k\rho^{n-1} \sin[(n-1)\theta]u(n-1)$$

$$h(n) = \rho^{n-1} \left\{ \cos[(n-1)\theta] + \left(\frac{\cos \theta}{\sin \theta} - \frac{z_0}{\rho \sin \theta} \right) \sin[(n-1)\theta] \right\} u(n-1)$$

$$h(n) = \frac{\rho^{n-1}}{\sin \theta} \left\{ \sin \theta \cos[(n-1)\theta] + \cos \theta \sin[(n-1)\theta] - \frac{z_0}{\rho} \sin[(n-1)\theta] \right\} u(n-1)$$

$$h(n) = \frac{\rho^{n-1}}{\sin \theta} \left\{ \sin(n\theta) - \frac{z_0}{\rho} \sin[(n-1)\theta] \right\} u(n-1)$$

$$h(n) = \frac{\rho^{n-1}}{\sin \theta} \left[\left(1 - \frac{z_0}{\rho} \cos \theta \right) \sin(n\theta) + \frac{z_0}{\rho} \sin \theta \cos(n\theta) \right] u(n-1)$$

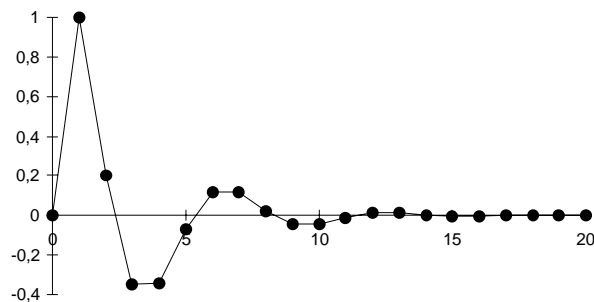
$$h(n) = A \frac{\rho^{n-1}}{\sin \theta} [\sin(n\theta + \varphi)] u(n-1) \text{ en posant } A \cos \varphi = 1 - \frac{z_0}{\rho} \cos \theta \text{ et } A \sin \varphi = \frac{z_0}{\rho} \sin \theta$$

$$\text{soit } A = \sqrt{1 - 2\frac{z_0}{\rho} \cos \theta + \frac{z_0^2}{\rho^2}} \quad \text{et} \quad \text{tg } \varphi = \frac{z_0 \sin \theta}{\rho - z_0 \cos \theta}$$

Avec: $\rho = 0,7 \quad \theta = 60^\circ \quad z_0 = 0,5$

on trouve $k = -0,247 \quad \varphi = 43,9^\circ \quad A = 0,892$

n	0	1	2	3	4	5	6	7	8	9	10
h(n)	0	1	0,2	-0,35	-0,343	-0,069	0,120	0,118	0,024	-0,041	-0,040



Méthode des résidus

$$\mathbf{R}_{p_0} = \lim_{z \rightarrow p_0} \left| (z - p_0) z^{n-1} H(z) \right| = \lim_{z \rightarrow p_0} \left| (z - p_0) z^{n-1} \frac{z - z_0}{(z - p_0)(z - p_0^*)} \right| = p_0^{n-1} \frac{p_0 - z_0}{(p_0 - p_0^*)}$$

$$\mathbf{R}_{p_0} = \rho^{n-1} e^{j(n-1)\theta} \frac{\rho e^{j\theta} - z_0}{2j\rho \sin \theta} \text{ et de même } \mathbf{R}_{p_0^*} = -\rho^{n-1} e^{-j(n-1)\theta} \frac{\rho e^{-j\theta} - z_0}{2j\rho \sin \theta}$$

$$h(n) = \mathbf{R}_{p_0} + \mathbf{R}_{p_0^*} = \frac{\rho^{n-1}}{2j\rho \sin \theta} \left[e^{j(n-1)\theta} (\rho e^{j\theta} - z_0) - e^{-j(n-1)\theta} (\rho e^{-j\theta} - z_0) \right]$$

$$h(n) = \frac{\rho^{n-1}}{2j\rho \sin \theta} \left\{ \rho 2j \sin(n\theta) - z_0 2j \sin[(n-1)\theta] \right\} \text{ etc...}$$

Equation de récurrence

$$H(z) = \frac{Y(z)}{X(z)} = \frac{z - z_0}{z^2 - 2\rho \cos \theta z + \rho^2} = \frac{z^{-1} - z_0 z^{-2}}{1 - 2\rho \cos \theta z^{-1} + \rho^2 z^{-2}}$$

$$Y(z) (1 - 2\rho \cos \theta z^{-1} + \rho^2 z^{-2}) = X(z) (z^{-1} - z_0 z^{-2})$$

$$y(n) = x(n-1) - z_0 x(n-2) + 2\rho \cos \theta y(n-1) - \rho^2 y(n-2)$$

On peut vérifier que la réponse impulsionnelle à cette équation donne les mêmes échantillons que ceux que l'on obtient avec $h(n)$.
